


- ۲۰۱- در کدام عبارت، تفاوت میان نگرش جغرافیدانان با سایر رشته‌های علوم، به درستی بیان شده است؟
 (۱) کمک به انسان برای زندگی بهتر
 (۲) کشف ناشناخته‌های جهان
 (۳) مطالعه شباهت‌ها و تفاوت‌های مکان‌ها
 (۴) طبقه‌بندی نظام‌های اقتصادی و اجتماعی
- ۲۰۲- کدام مورد، با دلایل ناپایداری «دامنه شمالی البرز» مغایرت دارد؟
 (۱) شیب زیاد دامنه‌ها
 (۲) افزایش وزن دامنه‌ها
 (۳) جریان آب حاصل از بارندگی
 (۴) حجم زیاد رسوبات فرسایش یافته
- ۲۰۳- کدام گزینه، پیامد عبارت زیر است؟
 «در فصل زمستان و در شرایطی که توده هوا از هوای مجاور خود گرم‌تر می‌شود، در صورت وجود رطوبت، بارندگی صورت می‌گیرد.»
 (۱) افزایش بارش در سواحل خزر
 (۲) تراکم رطوبت و بارش در دامنه غربی زاگرس
 (۳) کاهش اختلاف دما در سواحل شمالی و جنوبی کشور
 (۴) تشکیل ابرهای نیمبواستراتوس در دامنه شمالی البرز
- ۲۰۴- کدام جمله، دلیل مناسبی برای عبارت تدوین شده است؟
 «سفیدرود و هراز از طولانی‌ترین رودهایی هستند که به دریای خزر وارد می‌شوند.»
 (۱) پُرآب‌ترین رودهای این حوضه ابریز هستند.
 (۲) از کوهستان‌های بلند و برف‌گیر تغذیه می‌شوند.
 (۳) سرچشمه رودهای متعددی در حوضه ابریز هستند.
 (۴) براساس شکل زمین و شیب ناهمواری جریان می‌یابند.
- ۲۰۵- همه عبارت‌ها، براساس «سلسله مراتب سکونتگاه‌های ایران»، به درستی نوشته شده‌اند، به جز:
 (۱) استان با تنوع خدمات بیشتر در رأس هرم قرار گرفته است.
 (۲) تنوع خدمات در دهستان کمتر از بخش و بیشتر از روستا است.
 (۳) در شهرستان شمار جمعیت و تنوع خدمات از بخش بیشتر و از استان کمتر است.
 (۴) تنوع خدمات و شمار جمعیت در چند روستا، از بخش بیشتر و از دهستان کمتر است.
- ۲۰۶- کدام گزینه، با توجه به تصویر زیر، عبارت تدوین شده را به درستی کامل می‌کند؟
 «هر مکان در روی زمین ویژگی‌هایی دارد و»

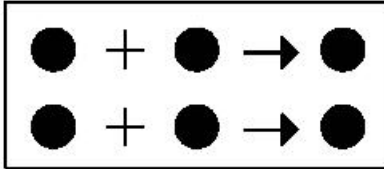


- (۱) میان هر واحد با واحد مجاور تفاوت وجود دارد.
 (۲) میان اجزا و پدیده‌های آن، نوعی پیوستگی و هماهنگی وجود دارد.
 (۳) تعیین حدود یک ناحیه، به هدف مطالعه و تحقیق جغرافیدان بستگی دارد.
 (۴) ویژگی اصلی هر ناحیه، وحدت و همگونی نسبی میان عناصر طبیعی و انسانی است.
- ۲۰۷- همه موارد، با ویژگی‌های بیان تصویر شده، مغایرت دارند، به جز:
 (۱) دوری از منابع رطوبتی
 (۲) صعود کردن هوای مرطوب
 (۳) مجاورت با مرکز پُر فشار جنب حازه
 (۴) قرار داشتن در عرض جغرافیایی بالا

۲۰۸- کدام گزینه، بیانگر تفاوت «نقش فرسایشی آب‌های جاری» در مقایسه با عملکرد سایر عوامل مؤثر در فرایند فرسایش است؟

- (۱) تشکیل غارهای طبیعی
(۲) تغییر شکل عوارض سطح زمین
(۳) انباشت مواد حاصل از هوازدگی
(۴) حمل مواد تخریب شده به صورت معلق

۲۰۹- کدام عبارت، با مدل تصویر شدهٔ روبه‌رو، مغایرت دارد؟



- (۱) ظهور دین مسیحیت در آسیا
(۲) خلق چشم‌اندازهای فرهنگی
(۳) همه‌گیری بیماری Covid۱۹

(۴) پراکندگی پیروان دین یهود در نواحی بزرگ بازرگانی

۲۱۰- همه عبارت‌ها، با نظریهٔ «قدرت دریایی آلفرد ماهان»، مطابقت دارند. به جز:

- (الف) کشورهای قدرتمند هستند که به آب‌های آزاد دسترسی داشته باشند.
(ب) فضاهای دریایی و اقیانوسی در شکل‌گیری قدرت جهانی مؤثر هستند.
(ج) قدرت دریایی کشور ساحلی وابسته به نیروی جنگی ناوگان دریایی است.
(د) در کشورهای دریایی و اقیانوسی، ملتی قدرتمندتر است که در تجارت دریایی نیرومند باشد.
- (۱) الف و ب (۲) الف و ج (۳) ب و د (۴) ج و د

۲۱۱- کدام عبارت، درست است؟

- (۱) همهٔ پایتخت‌ها در سطح جهان، مادرشهر هستند.
(۲) مادرشهرها بیش از ۱۰ میلیون نفر جمعیت دارند.
(۳) مادرشهرها در رأس هرم سلسله مراتب سکونتگاهی قرار دارند.
(۴) مادرشهرها بزرگ‌ترین و پرجمعیت‌ترین شهر در یک ناحیه یا استان هستند.

۲۱۲- کدام موارد، به صورت «طرح هادی روستایی و توسط بنیاد مسکن انقلاب اسلامی ایران» تهیه و اجرا شده است؟

- (الف) توسعهٔ صنایع تبدیلی کشاورزی
(ب) آموزش بهداشت و پیشگیری از بیماری‌های واگیردار
(ج) بهبود خدمات گردشگری و فراغتی
(د) تأمین آب آشامیدنی سالم

- (۱) الف و ب (۲) الف و ج (۳) ب و د (۴) ج و د


۲۱۳- چرا مدیریت حمل‌ونقل درون شهری، یکی از موضوعات مهم شهرها، طی ۵۰ سال اخیر بوده است؟

- (۱) به دسترسی عادلانهٔ همهٔ اقشار جامعه توجه شده است.
(۲) نقاضای حمل‌ونقل شهری، رشد چشمگیری داشته است.
(۳) حمل‌ونقل یکی از اساسی‌ترین نیازهای روزانهٔ مردم بوده است.
(۴) با توسعهٔ وسایل حمل‌ونقل، مصرف سوخت‌های فسیلی بسیار افزایش یافته است.

۲۱۴- کدام عبارت، نادرست است؟

- (۱) رودخانه‌ها، جریان آب حاصل از بارش را، به تدریج تخلیه می‌کنند.
(۲) میان شکل حوضه و شیب بستر با طول آبراهه، رابطهٔ مستقیمی وجود دارد.
(۳) در زمان وقوع سیلاب‌های فصلی، جریان آب، دشت‌های سیلابی را فرا می‌گیرد.
(۴) هر قدر تعداد انشعابات رود بیشتر باشد، سرعت تخلیهٔ آب حاصل از بارش افزایش می‌یابد.

۲۱۵- تصویر زیر، با کدام یک از «روش‌های سازهای» در مدیریت پیش از وقوع سیل مطابقت دارد؟



- (۱) ساخت سدهای خشکه چین مطابق با دورهٔ بازگشت آبراهه‌ها
(۲) ساخت دیواره‌های مهارکننده برای انحراف آبراهه‌ها
(۳) احداث کانال‌های انحرافی با هدف هدایت آبراهه‌ها
(۴) احداث سد تنظیمی برای اصلاح شیب آبراهه‌ها